

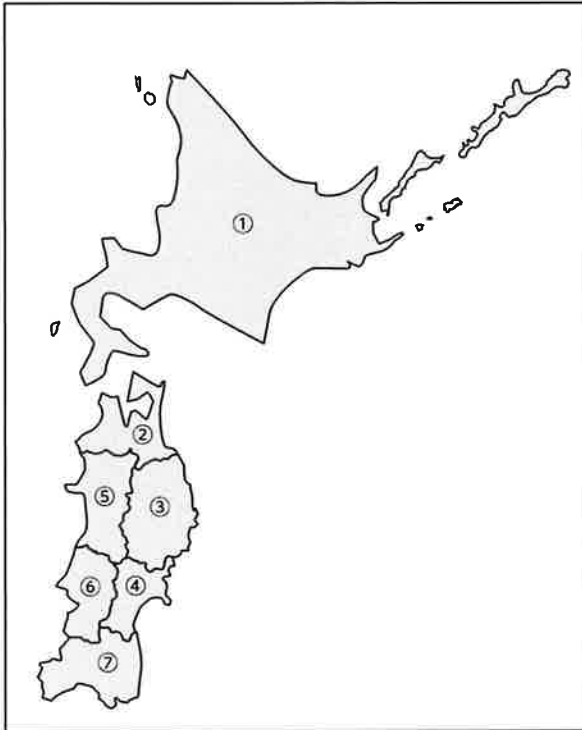
都道府県 1

北海道・東北・関東地方

年 組 名前 ()

① ほっかいどう北海道地方ととうほく東北地方のとどうふけん都道府県を覚えましょう。

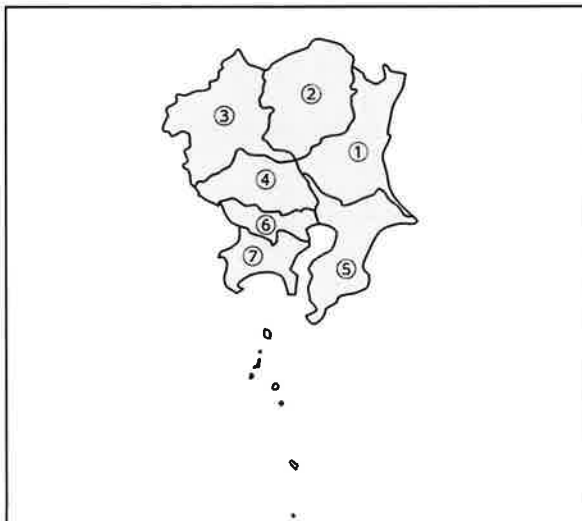
覚えられた人は、みぎがわ右側を折ったり、おかくしたりして、見ないで書きましょう。



①		<small>ほっかいどう</small> 北海道
②		<small>あおもりけん</small> 青森県
③		<small>いわてけん</small> 岩手県
④		<small>みやぎけん</small> 宮城県
⑤		<small>あきたけん</small> 秋田県
⑥		<small>やまがたけん</small> 山形県
⑦		<small>ふくしまけん</small> 福島県

② かんとう関東地方の都道府県を覚えましょう。

覚えられた人は、みぎがわ右側を折ったり、おかくしたりして、見ないで書きましょう。



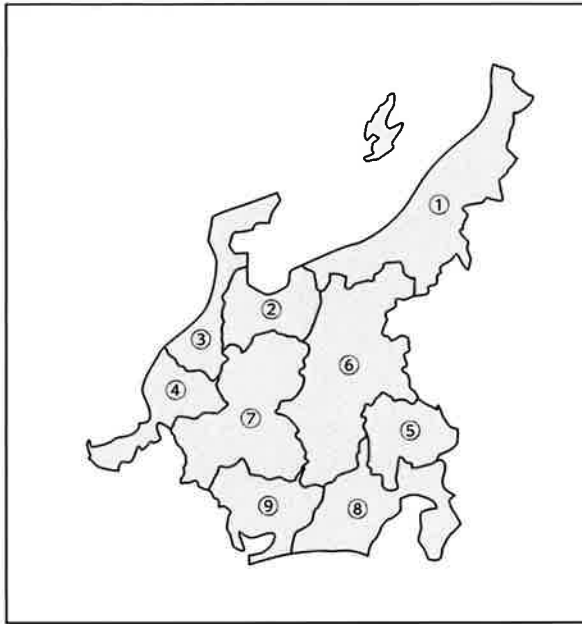
①		<small>いばらきけん</small> 茨城県
②		<small>とちぎけん</small> 栃木県
③		<small>ぐんまけん</small> 群馬県
④		<small>さいたまけん</small> 埼玉県
⑤		<small>ちばけん</small> 千葉県
⑥		<small>とうきょうと</small> 東京都
⑦		<small>かながわけん</small> 神奈川県

中部・近畿地方

年 組 名前 ()

① 中部地方の都道府県を覚えましょう。

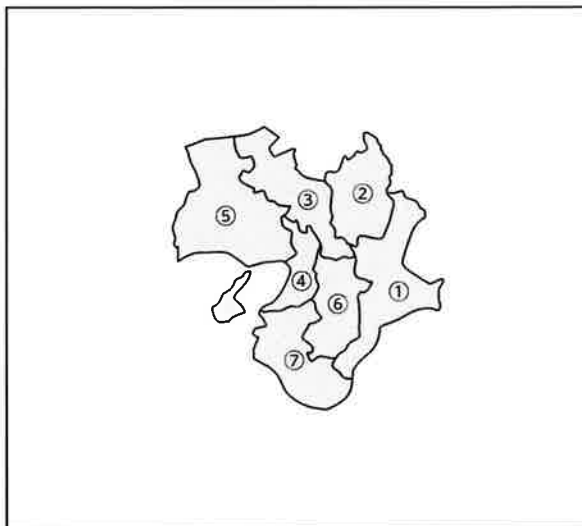
覚えられた人は、右側を折ったり、かくしたりして、見ないで書きましょう。



①		新潟県
②		富山県
③		石川県
④		福井県
⑤		山梨県
⑥		長野県
⑦		岐阜県
⑧		静岡県
⑨		愛知県

② 近畿地方の都道府県を覚えましょう。

覚えられた人は、右側を折ったり、かくしたりして、見ないで書きましょう。



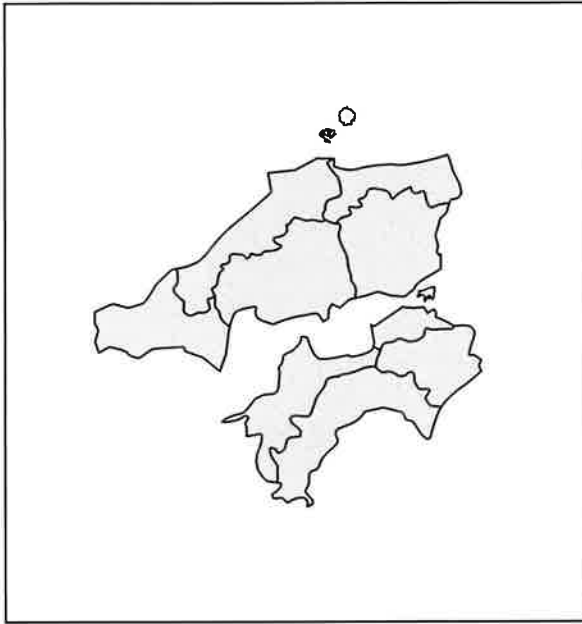
①		三重県
②		滋賀県
③		京都府
④		大阪府
⑤		兵庫県
⑥		奈良県
⑦		和歌山県

中国・四国・九州地方

年 組 名前 ()

① 中国・四国地方の都道府県を覚えましょう。

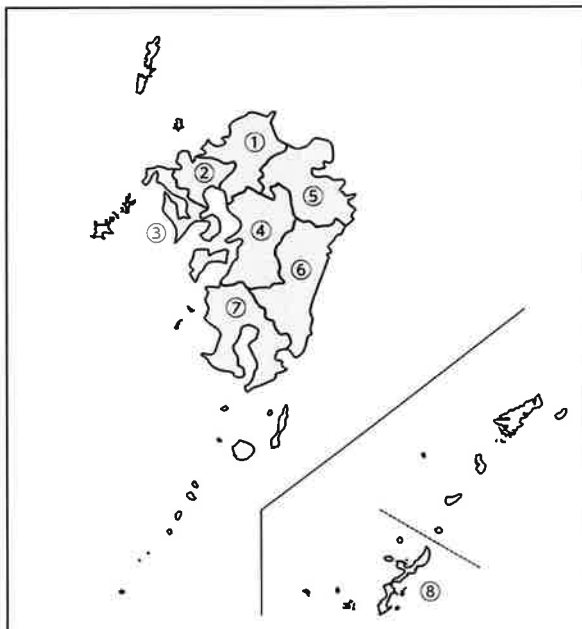
覚えられた人は、右側を折ったり、かくしたりして、見ないで書きましょう。



①		とっとりけん 鳥取県
②		しまねけん 島根県
③		おかやまけん 岡山県
④		ひろしまけん 広島県
⑤		やまぐちけん 山口県
⑥		とくしまけん 徳島県
⑦		かがわけん 香川県
⑧		えひめけん 愛媛県
⑨		こうちけん 高知県

② 九州地方の都道府県を覚えましょう。

覚えられた人は、右側を折ったり、かくしたりして、見ないで書きましょう。



①		ふくおかけん 福岡県
②		さがけん 佐賀県
③		ながさきけん 長崎県
④		くまもとけん 熊本県
⑤		おおいたけん 大分県
⑥		みやざきけん 宮崎県
⑦		かごしまけん 鹿児島県
⑧		ちゅぎんけん 沖縄県

北海道・東北地方の 有名なものを調べる

年 組 名前 ()

- ① 北海道地方と東北地方にある道県の、お寺や神社、観光スポット、ふるさと納税、
伝統工芸、自然やグルメなどの中から、有名なものを調べて、3つを書きましょう。

The form contains a map of the Hokkaido and Tohoku regions of Japan. The map is divided into several areas, each with a dotted line leading to a callout box for research. The callout boxes are arranged as follows:

- Top left: A box labeled "とどうふけん 都道府県名" (Prefecture Name) with three horizontal lines for writing.
- Left side (three boxes): Each box is labeled "都道府県名" (Prefecture Name) and has three horizontal lines for writing.
- Right side (three boxes): Each box is labeled "都道府県名" (Prefecture Name) and has three horizontal lines for writing.

関東地方の 有名なものを調べる

年 組 名前 ()

- ① ^{かんとう}関東地方にある都県の、お寺や神社、^{かんこう}観光スポット、ふるさと納税、^{のうぜい}伝統工芸、^{でんとうこうげい}自然やグルメなどの中から、有名なものを調べて、3つを書きましょう。

The form consists of a central map of the Kanto region (関東地方) with dotted lines connecting specific areas to six separate form boxes for recording prefecture names. Each box is labeled '都道府県名' (都道府県名) and has three horizontal lines for writing.

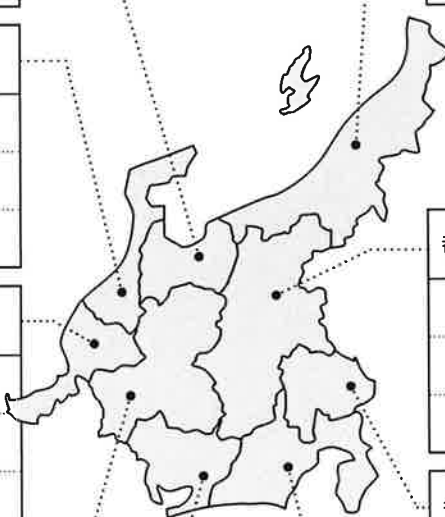
- Top-left box: 都道府県名
- Top-right box: とどうふけん 都道府県名
- Middle-right box: 都道府県名
- Bottom-right box: 都道府県名
- Bottom-right box: 都道府県名
- Bottom-left box: 都道府県名

都道府県 6

中部地方の 有名なものを調べる

年 組 名前 ()

- ① 中部地方にある県の、お寺や神社、観光スポット、ふるさと納税、伝統工芸、自然やグルメなどの中から、有名なものを調べて、3つを書きましょう。

とどうふけん 都道府県名		都道府県名
都道府県名		都道府県名
都道府県名		都道府県名
都道府県名		都道府県名
都道府県名		都道府県名

近畿地方の 有名なものを調べる

年 組 名前 ()

- ① 近畿^{きんき}地方にある府県^{ふけん}の、お寺や神社、観光^{かんこう}スポット、ふるさと納税^{のうぜい}、伝統^{でんとう}工芸^{こうげい}、自然^{しぜん}やグルメなどの中から、有名なものを調べて、3つを書きましょう。

とどうふけん
都道府県名

都道府県名

都道府県名

都道府県名

都道府県名

都道府県名

都道府県名

中国・四国地方の 有名なものを調べる

年 組 名前 ()

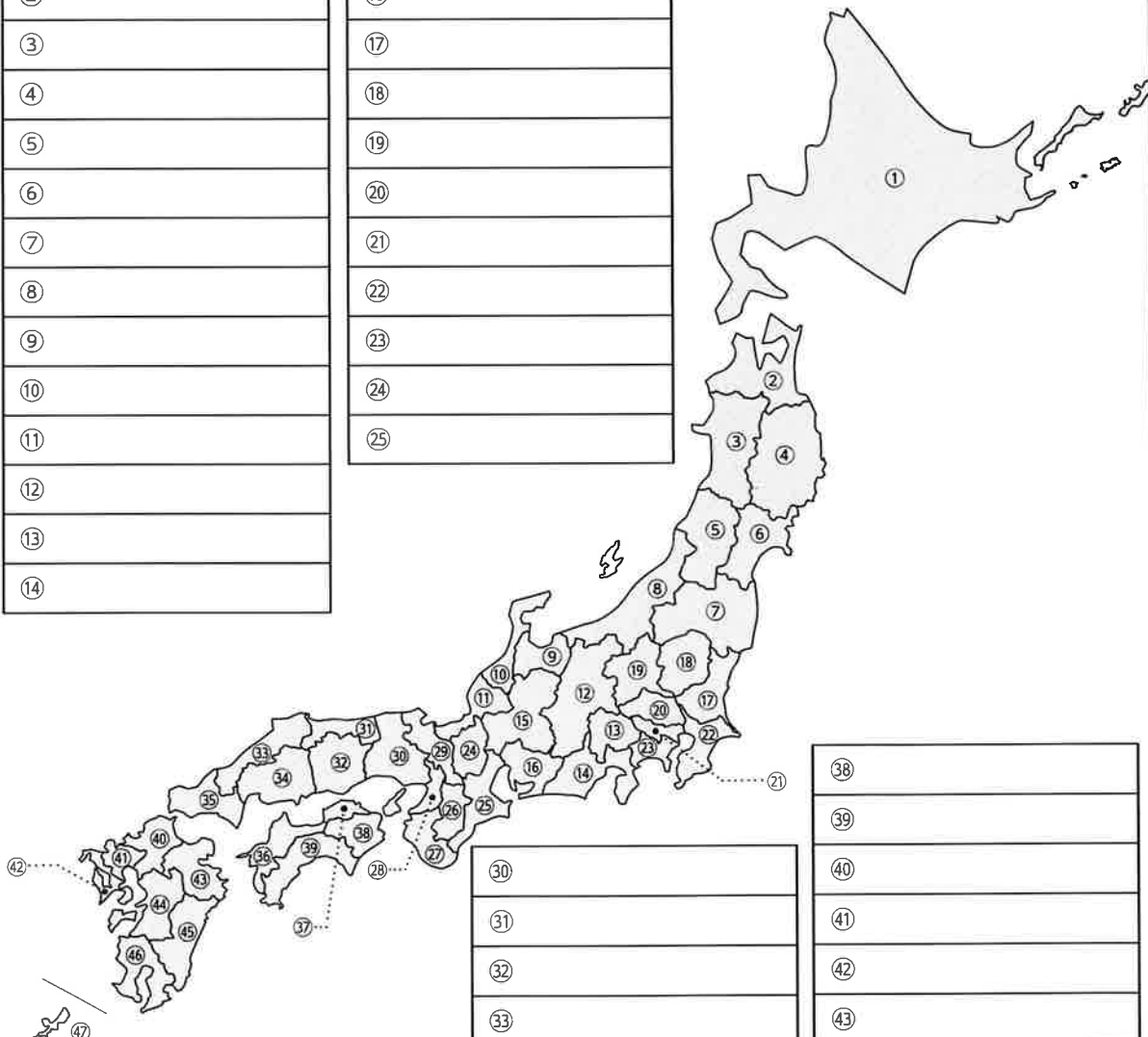
- ① 中国・四国地方にある県の、お寺や神社、観光スポット、ふるさと納税、伝統工芸、自然やグルメなどの中から、有名なものを調べて、3つを書きましょう。

<p>とどうふけん 都道府県名</p> <hr/> <hr/> <hr/>		<p>都道府県名</p> <hr/> <hr/> <hr/>
<p>都道府県名</p> <hr/> <hr/> <hr/>		<p>都道府県名</p> <hr/> <hr/> <hr/>
<p>都道府県名</p> <hr/> <hr/> <hr/>		<p>都道府県名</p> <hr/> <hr/> <hr/>
<p>都道府県名</p> <hr/> <hr/> <hr/>		<p>都道府県名</p> <hr/> <hr/> <hr/>
<p>都道府県名</p> <hr/> <hr/> <hr/>	<p>都道府県名</p> <hr/> <hr/> <hr/>	

47都道府県の 位置と名前を覚える

年 組 名前 ()

① 空いているらんに、^{とどうふけん}都道府県の名前を書いて覚えましょう。

①	⑮		
②	⑯		⑳
③	⑰		㉑
④	⑱		㉒
⑤	㉐		㉓
⑥	㉑		㉔
⑦	㉒		㉕
⑧	㉓		㉖
⑨	㉔		㉗
⑩	㉕		㉘
⑪	㉖		㉙
⑫	㉗		㉚
⑬	㉘		㉛
⑭	㉙		㉜
⑮	㉚	㉝	
⑯	㉛	㉞	
⑰	㉜	㉟	
⑱	㉝	㊱	
㉐	㉞	㊲	
㉑	㉟	㊳	
㉒	㊰	㊴	
㉓	㊱	㊵	
㉔	㊲	㊶	
㉕	㊳	㊷	
㉖	㊴	㊸	
㉗	㊵	㊹	
㉘	㊶	㊺	
㉙	㊷	㊻	
㉚	㊸	㊼	
㉛	㊹	㊽	
㉜	㊺	㊾	
㉝	㊻	㊿	
㉞	㊼		
㉟	㊽		
㊰	㊾		
㊱	㊿		
㊲			
㊳			
㊴			
㊵			
㊶			
㊷			
㊸			
㊹			
㊺			
㊻			
㊼			
㊽			
㊾			
㊿			