

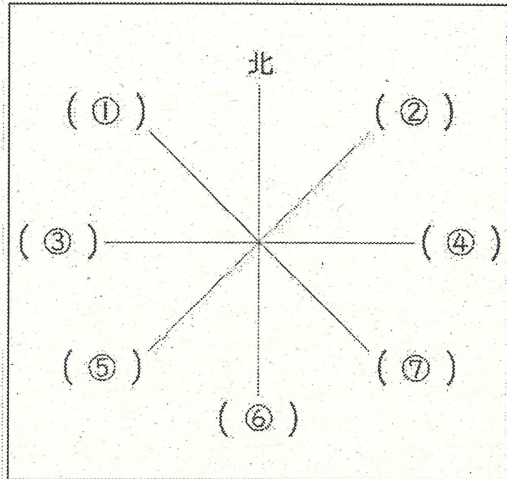
方角問題 1

八方位・地図

年 組 名前 ()

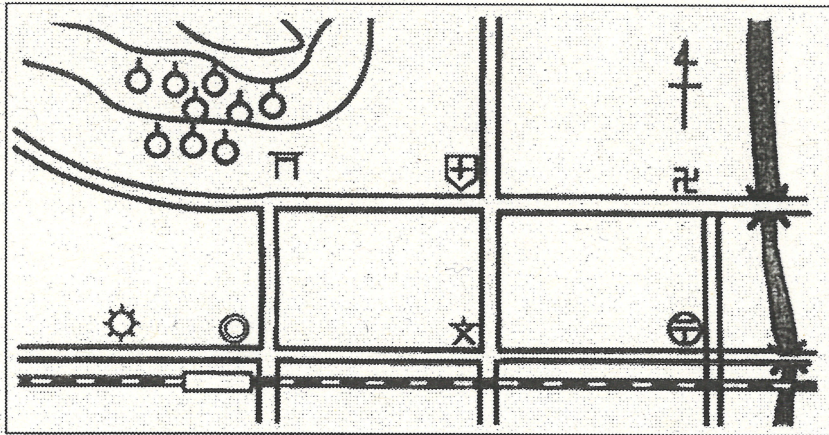
① 八方位をおぼえましょう。

おぼえられた人は、右がわをおったり、かくしたりして、見ないで書きましょう。



| | | |
|---|--|----|
| ① | | 北西 |
| ② | | 北東 |
| ③ | | 西 |
| ④ | | 東 |
| ⑤ | | 南西 |
| ⑥ | | 南 |
| ⑦ | | 南東 |

② 方角を答えましょう。



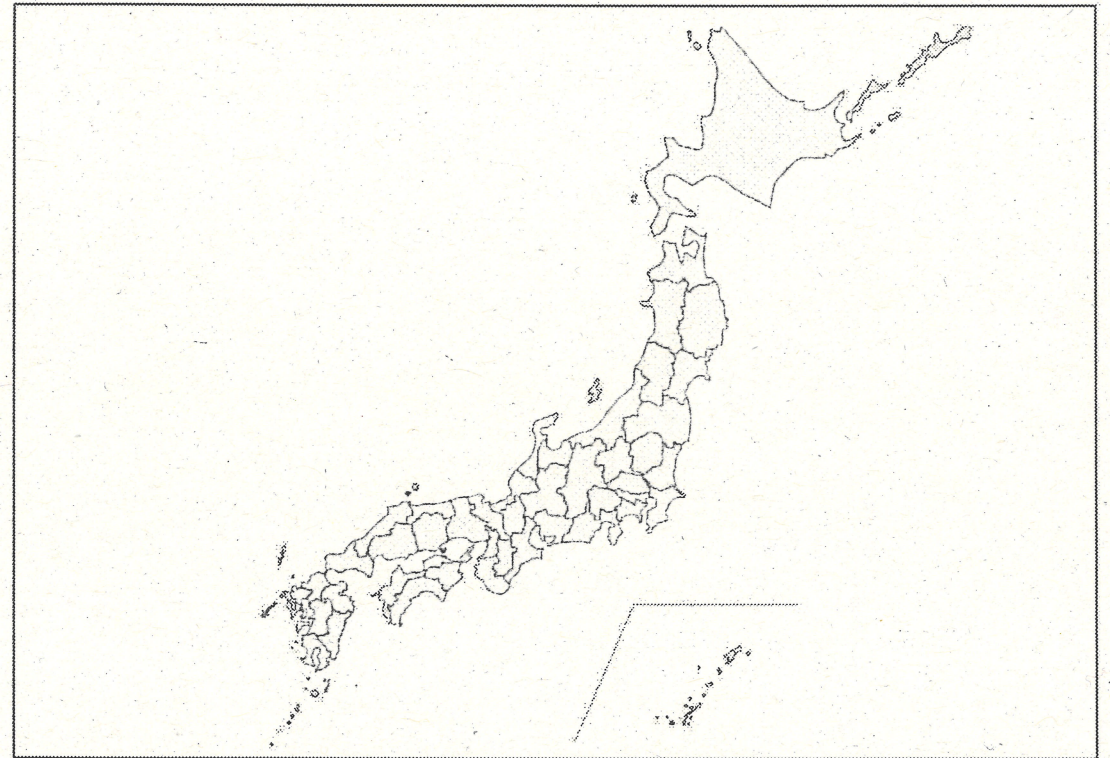
- ① 学校から見て、病院はどの方角にありますか。 (北西)
- ② 神社から見て、学校はどの方角にありますか。 (南東)
- ③ 川から見て、かじゅ園はどの方角にありますか。 (西)

方角問題 2

都道府県

年 組 名前 ()

① 自分が住んでいる都道府県について、あとの問題に答えましょう。



① 右の () に自分が住んでいる都道府県名を書き、上の地図に色をぬりましょう。

()

② いくつの都道府県とせつしていますか。

()

③ せつしている都道府県と、その方角をすべて書きましょう。

れい) 奈良県に住んでいる場合。大阪府・西、京都府・北、など

④ 県庁所在地は、都道府県内のどのあたりにありますか。八方位、もしくは、中央ということばを使って、せつめいしましょう。

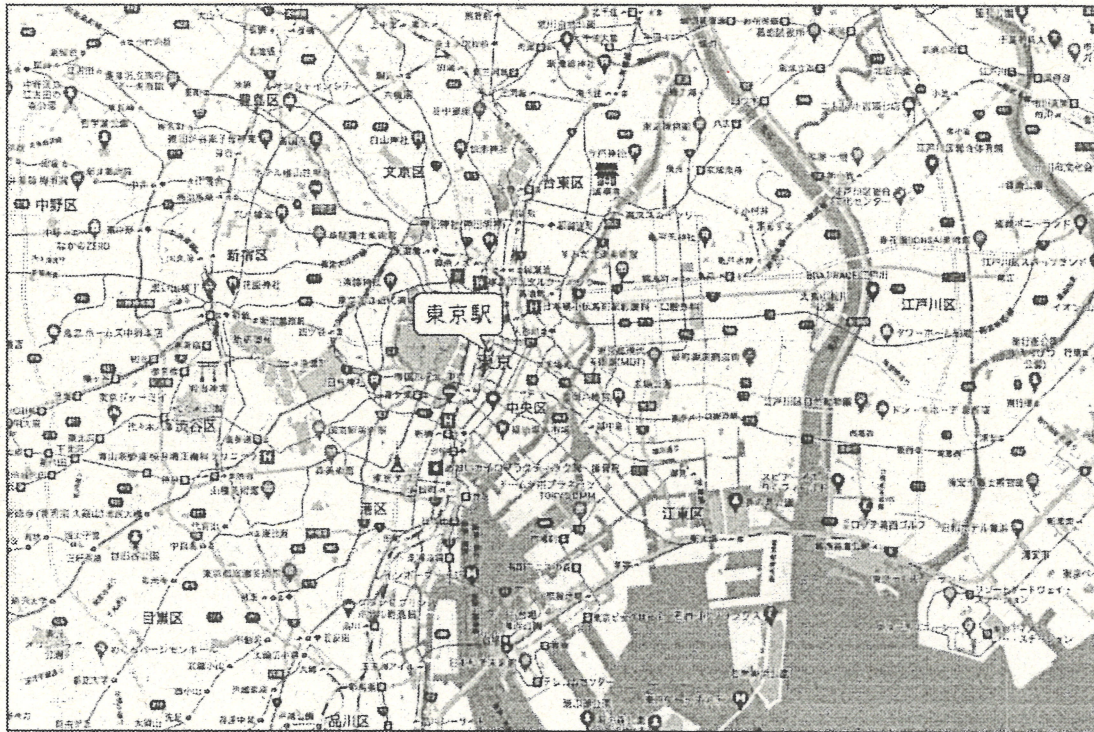
(例) 奈良県に住んでいる場合。北

方角問題 3

東京駅しゅうへんのグーグルマップ

年 組 名前 ()

● 下のグーグルマップ（地図）を見て、あとの問題に答えましょう。



- ① 東京駅とうきょうえきから見て、東京ディズニーランドは、どの方角にありますか。
(南東)
- ② 東京駅から見て、東京スカイツリーは、どの方角にありますか。
(北東)
- ③ 駒沢オリンピック公園こまざわから見て、東京駅は、どの方角にありますか。
(北東)
- ④ 明治神宮めいじじんぐうから見て、東京駅は、どの方角にありますか。
(東)
- ⑤ 上の問題のように、下の () の中にことばをあてはめて、意味が通る文を作りましょう。
例) (東京ディズニーシー) から見て、(お台場海浜公園) は、(八方位 西) にある。

方角問題 4

大阪駅しゅうへんのグーグルマップ

年 組 名前 ()

● 下のグーグルマップ（地図）を見て、あとの問題に答えましょう。



- ① 大阪駅おおさかえきから見て、神戸市こうべは、どの方角にありますか。
(西)
- ② 大阪駅から見て、奈良市ならは、どの方角にありますか。
(東)
- ③ 京都市きょうとから見て、大阪駅は、どの方角にありますか。
(南西)
- ④ 琵琶湖びばこから見て、大阪駅は、どの方角にありますか。
(南西)
- ⑤ 上の問題のように、下の () の中にことばをあてはめて、意味が通る文を作りましょう。
例) (鳴門市) から見て、(名古屋市) は、(八方位 北東) にある。