

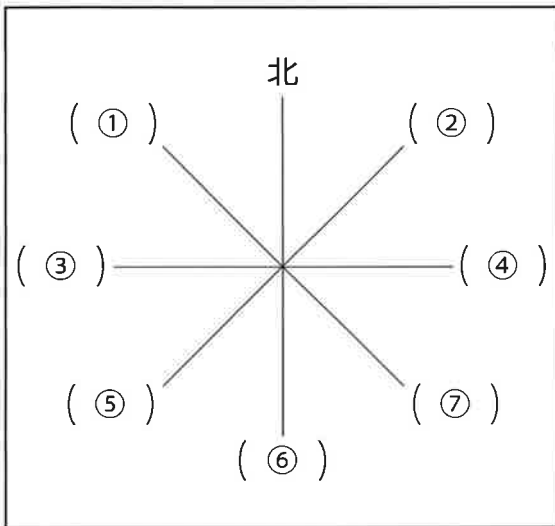
方角問題 1

八方位・地図

年 組 名前 ()

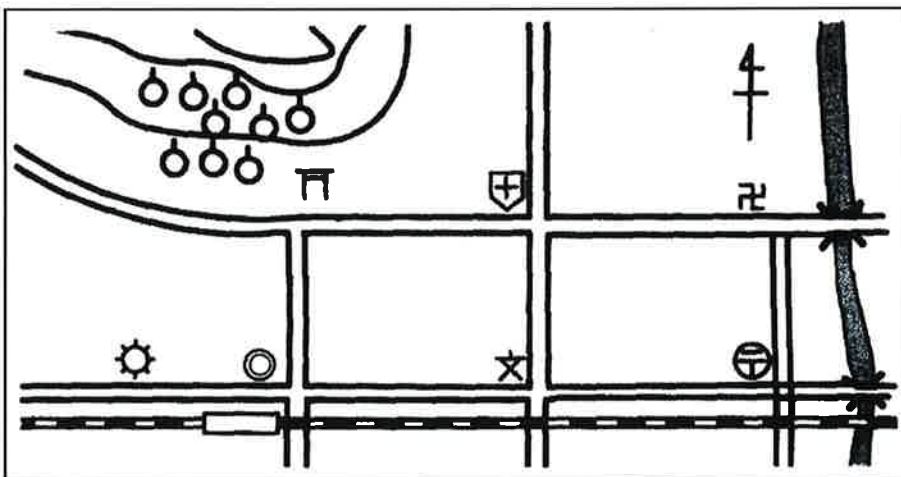
① はちほうい 八方位をおぼえましょう。

おぼえられた人は、右がわをおったり、かくしたりして、見ないで書きましょう。



①		北西
②		北東
③		西
④		東
⑤		南西
⑥		南
⑦		南東

② 方角を答えましょう。



① 学校から見て、病院びょういんはどの方角にありますか。()

② 神社から見て、学校はどの方角にありますか。()

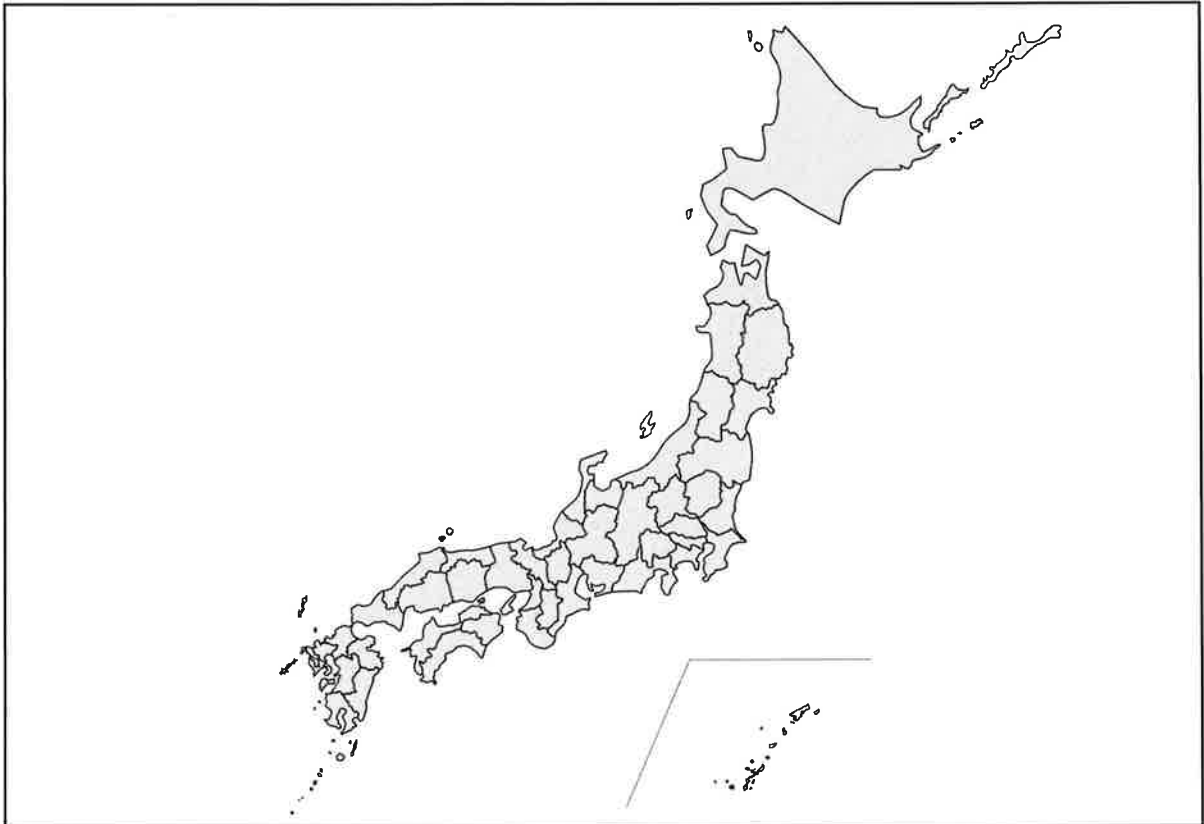
③ 川から見て、かじゅ園はどの方角にありますか。()

方角問題 2

都道府県

年 組 名前 ()

- 自分が^す住んでいる^{とどうふけん}都道府県について、あとの^{もんだい}問題に答えましょう。



- ① 右の () に自分が住んでいる都道府県名を書き、上の地図に色をぬりましょう。

()

- ② いくつの都道府県とせつしていますか。

()

- ③ せつしている都道府県と、その方角をすべて書きましょう。

れい) ^{なら}奈良県に住んでいる場合。 ^{おおさか}大阪府・^{きょうと}西、^{きょうと}京都府・^{きた}北、など

- ④ ^{けんちやうしよざい}県庁所在地は、都道府県内のどのあたりにありますか。 ^{はちほうい}八方位、もしくは、^{ちゆうおう}中央ということばを使って、せつめいしましょう。

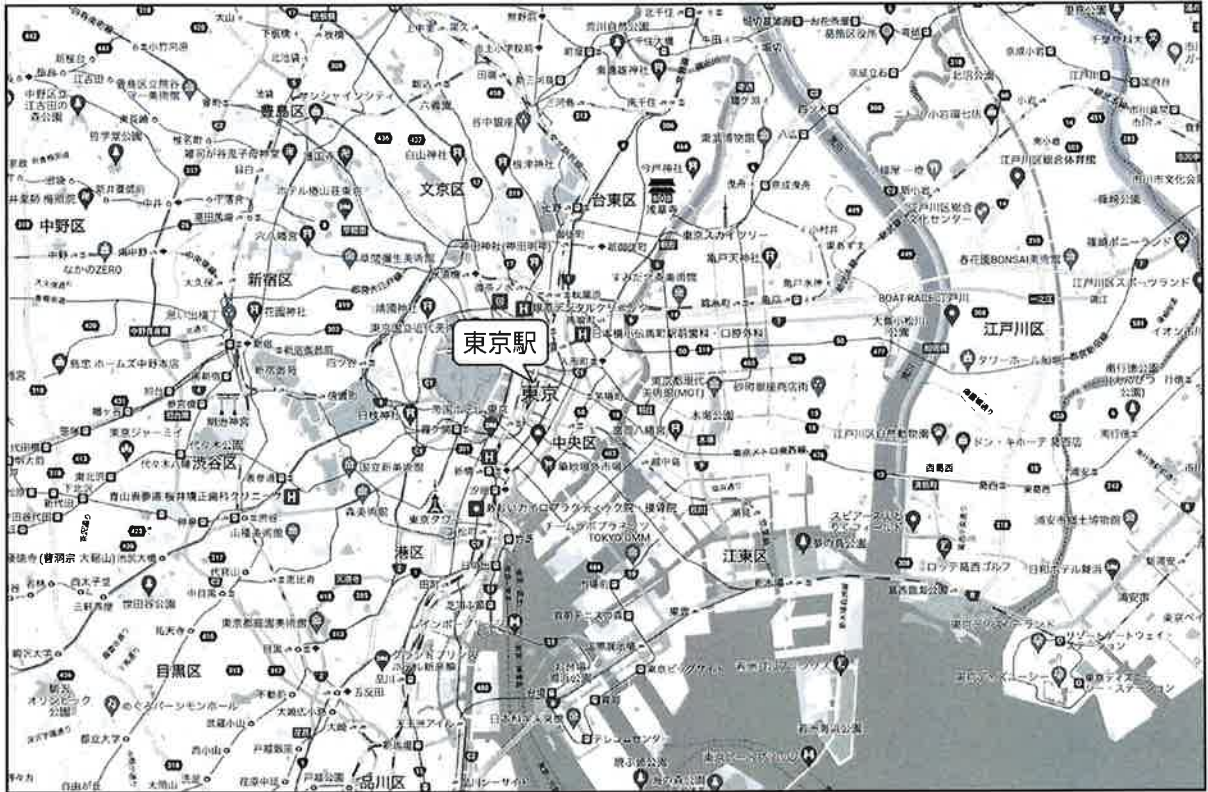
()

方角問題 3

東京駅しゅうへんのグーグルマップ

年 組 名前 ()

- 下のグーグルマップ（地図）を見て、あとの^{もんだい}問題に答えましょう。



- ① ^{とうきょうえき}東京駅から見て、東京ディズニーランドは、どの方角にありますか。
()
- ② 東京駅から見て、東京スカイツリーは、どの方角にありますか。
()
- ③ ^{こまざわ}駒沢オリンピック公園から見て、東京駅は、どの方角にありますか。
()
- ④ ^{めいじじんぐう}明治神宮から見て、東京駅は、どの方角にありますか。
()
- ⑤ 上の問題のように、下の()の中にことばをあてはめて、意味が通る文を作りましょう。
()から見て、()は、(^{はちほうい}八方位)にある。

方角問題 4

大阪駅しゅうへんのグーグルマップ

年 組 名前 ()

- 下のグーグルマップ（地図）を見て、あとの問題に答えましょう。



- ① 大阪駅おおさかえきから見て、神戸市こうべは、どの方角にありますか。
()
- ② 大阪駅から見て、奈良市ならは、どの方角にありますか。
()
- ③ 京都市きょうとから見て、大阪駅は、どの方角にありますか。
()
- ④ 琵琶湖びわこから見て、大阪駅は、どの方角にありますか。
()
- ⑤ 上の問題のように、下の()の中にことばをあてはめて、意味が通る文を作りましょう。
()から見て、()は、(八方位)にある。